

Arm en rijk werkblad 2.6: Welvaartsindicator, beroepsbevolking

Naam: _____

Datum: _____

Er zijn drie verschillende sectoren waarin mensen kunnen werken. De drie sectoren waarbinnen mensen kunnen werken moet je kennen en je moet beroepen binnen deze sectoren in kunnen delen. In de onderstaande tabel zie je de **primaire, secundaire en tertiaire sector** duidelijk samengevat.

Primaire sector: productie onbewerkt uit de natuur	
Landbouw	
Mijnbouw	
Visserij	
Secundaire sector: maken een nieuw product	
Industrie	
Bouw	
Tertiaire sector: enkel een dienst, geen product	
Alle diensten	

1. Zet de onderstaande beroepen bij de juiste sector.

Leraar

Metselaar

Gids

Krabvisser

Inpakker in een supermarkt

Vrachtwagenchauffeur

Papaver kweker

Piloot

Fabriekswerker bij Puma

Congierge op het Noordik

Primaire sector

Secundaire sector

Tertiaire sector

2. Vraag aan minimaal 5 klasgenoten één iemand dicht in hun omgeving (vader, moeder, buurman) in hun hoofd te nemen die werkt. Vraag vervolgens in welke sector dit beroep is. In welke sector zijn de minste en in welke sector de meeste beroepen?

3. Bekijk de tabel. Koppel de landen aan het bijpassende begrip.

% per sector t.o.v. totale beroepsbevolking

	Primaire	Secundaire	Tertiaire
A	90%	10%	0%
B	40%	35%	25%
C	3%	25%	72%

Land A

Land B

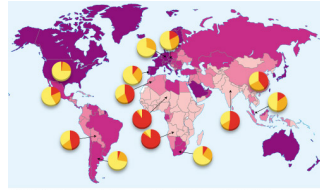
Land C

Centrum

Semi-periferie

Periferie

4. Bekijk bijgevoegde kaart. In welk werelddeel werken de meeste mensen in de primaire sector?



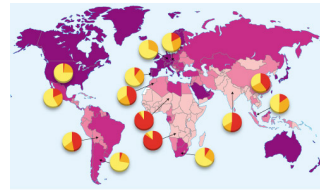
Verdeling van de beroepsbevolking in procenten

primaire sector	tertiere sector
secundaire sector	tertiere sector
tertiere sector	tertiere sector

Verdeling personen per hectaar naar landbouwtype

meer dan 20.000	10.000 - 20.000
2000 - 10.000	minder dan 2000
geen gegevens	geen gegevens

5. Bekijk bijgevoegde kaart. Welke type landen hebben de grootste secundaire sector?



Centrum

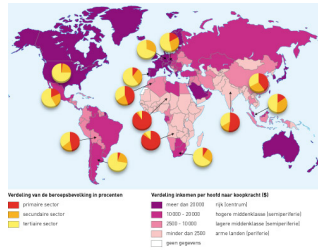


Semi-periferie



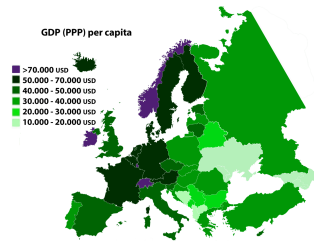
Periferie

6. Bekijk bijgevoegde kaart. Welk verband kun je halen tussen de percentage van de beroepsbevolking en het gemiddelde inkomen van landen. (schrijf je antwoord op in een hoe-hoe zin).



10

7. Bekijk bijgevoegde kaart. Geef aan de hand van deze kaart met behulp van windrichtingen een duidelijk voorbeeld van regionale ongelijkheid in Europa. (Bijvoorbeeld: "Het Zuidwesten van Europa is veel... enz").



10

8. **Bekijk dit filmpje over veranderingen in de landbouw.** Is de primaire sector door de veranderingen genoemd in dit filmpje groter of kleiner geworden? Leg je antwoord uit!
